



ESCOLA FRANCISCANA ESPAÇO VERDE – Belford Roxo, ___/___/___

PROFESSORA: RAIANE TURMA: 2º ANO

ALUNO (A): _____



REVISÃO MATEMÁTICA

CONDOMÍNIO CRIANÇA FELIZ



1) Pinte a casa de acordo com a sua numeração.

Pinte de rosa a casa com o número formado por 2 centenas, 0 dezena e 8 unidades.

Pinte de azul a casa com o número que termina com 0.

Pinte de verde a casa com o número sucessor de 206.

Pinte de amarelo a casa que é formada por 2 centenas, 0 dezena e 9 unidades.

2) Responda as questões a seguir com atenção, confio em você!

a) As crianças conseguiram plantar 245 sementes, ao decorrer dos quatro meses morreram 45 árvores, **firando** as que morreram. Quantas árvores continuam vivas?

Cálculo

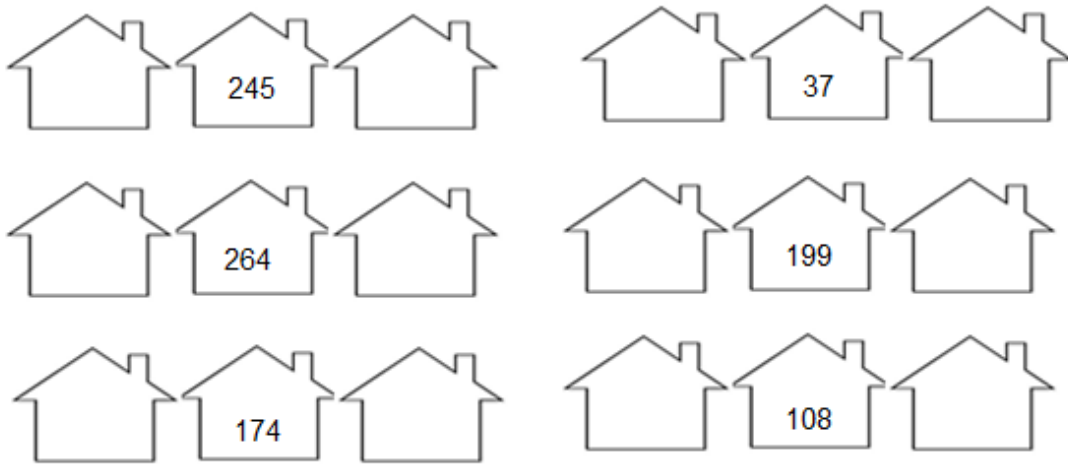
Resposta

b) Das árvores que continuaram a crescer tinham 55 pés de amoras e 43 cajueiros. Quantas árvores frutíferas tinham **ao todo**?

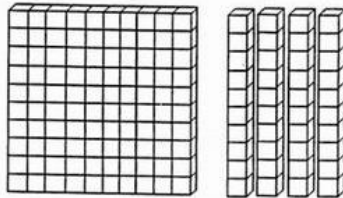
Cálculo

Resposta


3) Complete os números das casas do condomínio, colocando o antecessor e o sucessor.



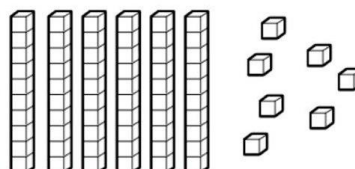
4) Qual o valor representado com o material dourado? Depois de formar o número no quadro valor de lugar, escreva se é par ou ímpar.



CENTENA	DEZENA	UNIDADE



CENTENA	DEZENA	UNIDADE



CENTENA	DEZENA	UNIDADE