

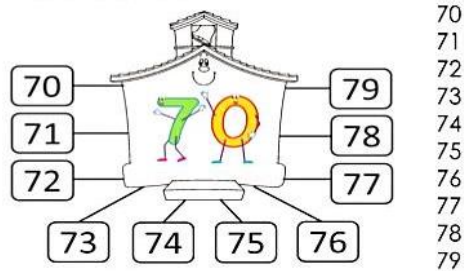


✓ Após realize as atividade do livro de Matemática págs.: 251


1ª ETAPA
ATIVIDADES DE MATEMÁTICA

✓ Após realize as atividade do livro de História págs.: 296 e 297

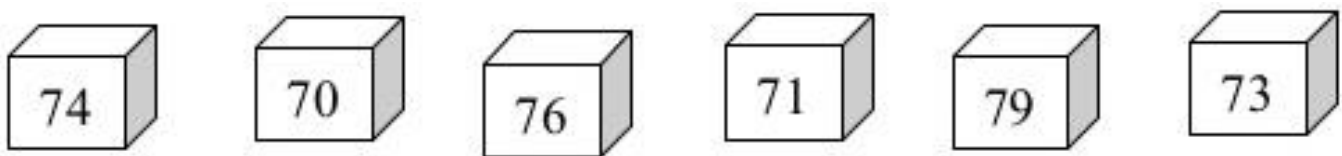
Família do número 70



1) Pinte os números **menores** que 76.




2) Organize os números abaixo em **ordem crescente** (do menor para o maior).




3) Pinte o número correspondente a:

a) É o **sucessor** do número 78



b) É o **antecessor** do número 71



c) É o **sucessor** do número 75

