

1ª ETAPA
ATIVIDADES DE MATEMÁTICA

1) Qual número vem logo depois? Complete.

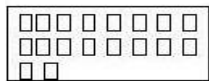


11		20		30	
15		23		35	
19		27		37	
21		29		38	

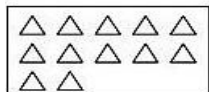
2) Conte os elementos de cada grupo e ligue ao seu numeral.



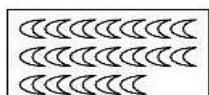
18



14



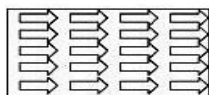
20



12



19



15

3) Escreva o nome dos números a seguir.

2 _____


6 _____

9 _____

8 _____



4) Você tem treinado bastante os números. Vamos agora mostrar que aprendeu, completando a sequência numérica.



5) Organize os números abaixo em:

69 60 62 65 61 67 63 69 64 66 68 70

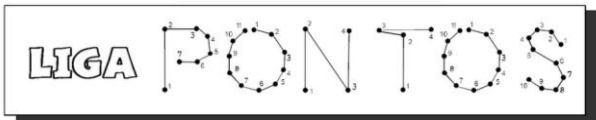
a) Ordem crescente (do menor para o maior)

b) Ordem decrescente (do maior para o menor)

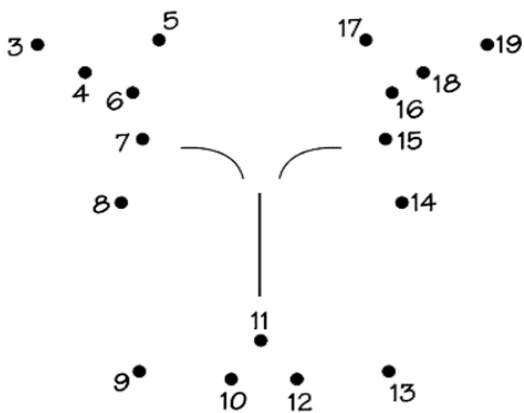
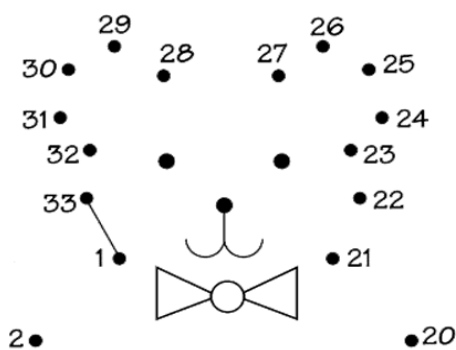


Você é brilhante!

1ª ETAPA
ATIVIDADES DE ARTES



1) O que será que vai aparecer? Ligue os pontos completando de **1 a 33** para formar a figura. Depois escreva o que se formou e pinte.



2) Agora complete as figuras para que fiquem iguais.

