



2ª ETAPA
ATIVIDADES DE HISTÓRIA E GEOGRAFIA

1) Faça o que se pede.

- REGISTRE SEU NOME ABAIXO.




- PINTE OS BALÕES COM AS VOGAIS DE SEU NOME E REGISTRE O NÚMERO DA QUANTIDADE EXISTENTE.



- QUANTAS CONSOANTES TÊM SEU NOME?

- QUANTAS LETRAS TÊM AO TODO?

2) Nosso nome é formado por vogais e consoantes, escreva no quadro abaixo somente as consoantes.





ESCOLA FRANCISCANA ESPAÇO VERDE – Belford Roxo, 25/05/2020

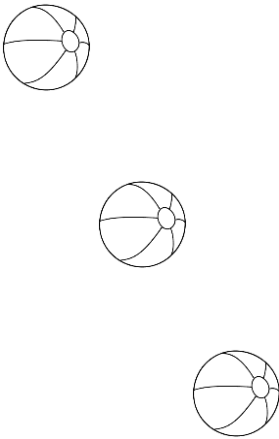



PROFESSORA: Adriana TURMA: Pré II

ALUNO (A): _____

2ª ETAPA
ATIVIDADES DE MATEMÁTICA

1) Escreva os números de 0 até 10.

2) Desenhe até completar a quantidade correspondente.

8	3	4	10
			

3) Complete com os números que estão faltando.

		3		5			8		10
--	--	---	--	---	--	--	---	--	----

4) Vamos aprender o número 11, cubra com capricho.

