

**1ª ETAPA**  
**ATIVIDADES DE HISTÓRIA**

QUEM SOU?


1) Você é menino ou menina? Pinte a figura que melhor lhe representa:



2) Circule os objetos que você costuma usar:



CALCINHA



CUECA





ESCOLA FRANCISCANA ESPAÇO VERDE – Belford Roxo, \_\_\_/\_\_\_/\_\_\_


PROFESSORA: Simone TURMA: PRÉ 1

ALUNO (A): \_\_\_\_\_

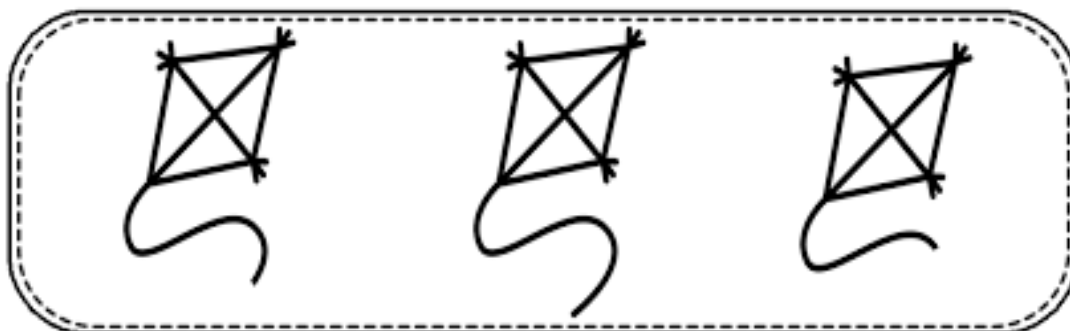
**1ª ETAPA**  
**ATIVIDADES DE MATEMÁTICA**

PERCEPÇÃO VISUAL

1) Pinte de amarelo a vaca maior.



2- Faça um x na linha mais curta.



3- Circule o coqueiro mais alto.

