



ESCOLA FRANCISCANA ESPAÇO VERDE – Belford Roxo, 19/06/2020

PROFESSORA: Milena Salotti TURMA: 4º ANO

ALUNO (A): _____

2ª ETAPA
ATIVIDADES DE ENSINO RELIGIOSO

LIVRO: Página 53.

AGORA É COM VOCÊ!

1) Vamos pesquisar o significado das palavras:

Judaísmo

Hinduísmo

Budismo

Cristianismo

Taoísmo



2ª ETAPA
ATIVIDADES DE MATEMÁTICA

Páginas 238 até 239.

SÓLIDOS GEOMÉTRICOS

Observe a tua volta e escreva o nome de objetos que lembrem:








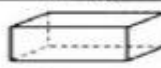
cubo – _____

esfera – _____

cilindro – _____

cone – _____

Monte os sólidos geométricos apresentados nesta tabela, indique quais equantas figuras geométricas de cada tipo existem em cada uma delas e complete:

Faça um desenho na malha quadriculada que utilize apenas figuras geométricas planas:

