


	V.P	V.A
NOTA	5,0	

2ª ETAPA
ATIVIDADES DE CIÊNCIAS





Atenção!

A importância dos animais.
Páginas do Livro: 460, 461, 462, 463.

1) Escreva de que forma os animais estão sendo usados.



2) Anote o que aproveitamos de cada um destes animais.



Trabalho – Utilizando garrafa PET de qualquer tamanho. Construir um animal de sua preferência. Identifique o material (o seu nome). (5,0 pontos)



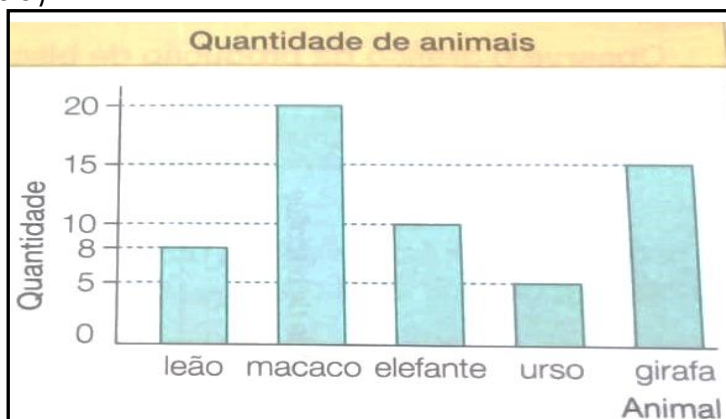


	V.P	V.A
NOTA	10,0	

2ª ETAPA
ATIVIDADES DE MATEMÁTICA

1) Observe no gráfico a quantidade de animais que um zoológico possui, complete a tabela e, depois, responda. (1,6 – 0,2 cada)

Quantidade de animais	
Animal	Quantidade
Leão	8
Macaco	
Elefante	
Urso	
Girafa	



- a) Que animal há em maior quantidade? _____
b) Que animal há em menor quantidade? _____
c) Há mais elefantes ou girafas? _____
d) Há menos ursos ou leões? _____

2) Desafio.

Observe os preços abaixo. (0,4 – 0,2 cada)



a) Em sua opinião, esses preços são altos ou baixos?

b) Esses doces custam mais ou menos que 1 real? Explique por quê.

1) Arme e efetue. (0,5 – 0,1 cada)

- a) $432 \times 2 =$
b) $568 \times 3 =$
c) $4682 \times 4 =$
d) $3212 \times 5 =$
e) $4281 \times 5 =$

a)	b)	c)	d)	e)
----	----	----	----	----