



ESCOLA FRANCISCANA ESPAÇO VERDE – Belford Roxo, ___/___/___

PROFESSORA: TURMA: 3º ANO N° ____

ALUNO (A): _____

1ª ETAPA
ATIVIDADES DE ENSINO RELIGIOSO

Atenção!

- **Amar e servir cuidando e respeitando.**

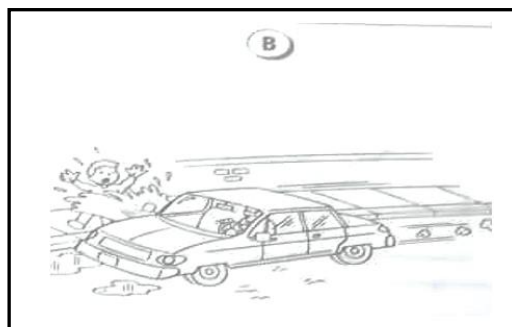

Livro páginas: 25, 26, 27.

Para haver respeito, é preciso aceitar o outro como ele é, ser capaz de entender que os defeitos e as qualidades fazem parte do ser humano. Devemos dar valor ao que as pessoas têm de bom.

Respeito ao próximo

1) Policarpo mora em um apartamento e resolveu furar a parede às 23 horas. Essa é uma atitude de respeito ou de desrespeito aos vizinhos? Explique.

2) Que atitudes de desrespeito ao próximo os motoristas destes automóveis demonstraram? Explique.





ESCOLA FRANCISCANA ESPAÇO VERDE – Belford Roxo, 14/04/2020

PROFESSORA: _____ TURMA: 3º ANO

ALUNO (A): _____

1ª ETAPA
ATIVIDADES DE MATEMÁTICA

Atenção!

Números pares e números ímpares
Páginas do livro: 178, 179.

- **Vídeo: Números pares e ímpares – Árvores do saber.**

Números pares e números ímpares

Os números podem ser separados em dois grupos denominados pares e ímpares.

Se o número terminar em 0, 2, 4, 6 ou 8, é par.

Se o número terminar em 1, 3, 5, 7 ou 9, é ímpar.


1) Observe esta ilustração.

a) Quais teclas possuem número par? _____

b) Quais teclas possuem número ímpar? _____

c) O número que aparece no visor é par ou ímpar?

d) Se lido de trás para frente, o número que aparece no visor é par ou ímpar? _____



2) Escreva no o valor absoluto do algarismo destacado nos números abaixo.

a) 593 c) 2054 e) 983

b) 478 d) 1052 f) 368

3) Escreva no o valor relativo do algarismo destacado nos números abaixo.

a) 158 c) 7482 e) 932

b) 639 d) 2013 d) 854