



**1ª ETAPA**  
**ATIVIDADES DE MATEMÁTICA**


Uma figura plana nada mais é que uma região plana fechada por segmentos de reta.




Retângulo



Triângulo

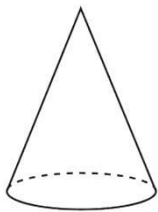


Quadrado




Círculo

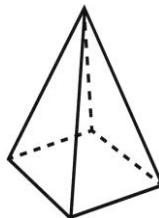
Sólidos geométricos são figuras geométricas que possuem três dimensões e, por isso, só podem ser definidas no espaço tridimensional.



Cone



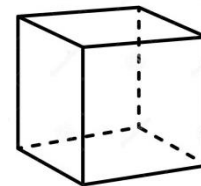
Paralelepípedo



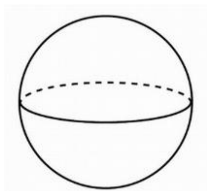
Pirâmide



Cilindro



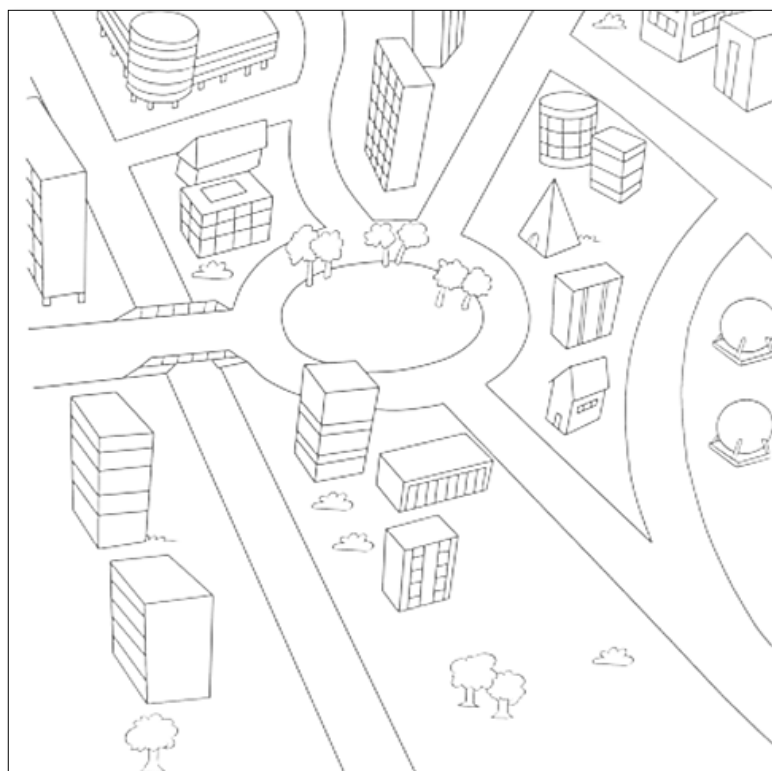
Cubo



Esfera

1) Pinte o desenho a seguir de acordo com a legenda.

cone – marrom	pirâmide – verde
esfera – laranja	cilindro – vermelho
paralelepípedo – azul	cubo – rosa





ESCOLA FRANCISCANA ESPAÇO VERDE – Belford Roxo, 19/05/2020

PROFESSORA: Raiane Odaisa TURMA: 2º ANO

ALUNO (A): \_\_\_\_\_



**1ª ETAPA**  
**ATIVIDADES DE ARTE**

**OS DEUSES GREGOS**

- Livro, página 408.

- Caderno.

1) Complete a tabela com as características dos deuses gregos e desenhe.

Atena	
Hermes	
Afrodite	