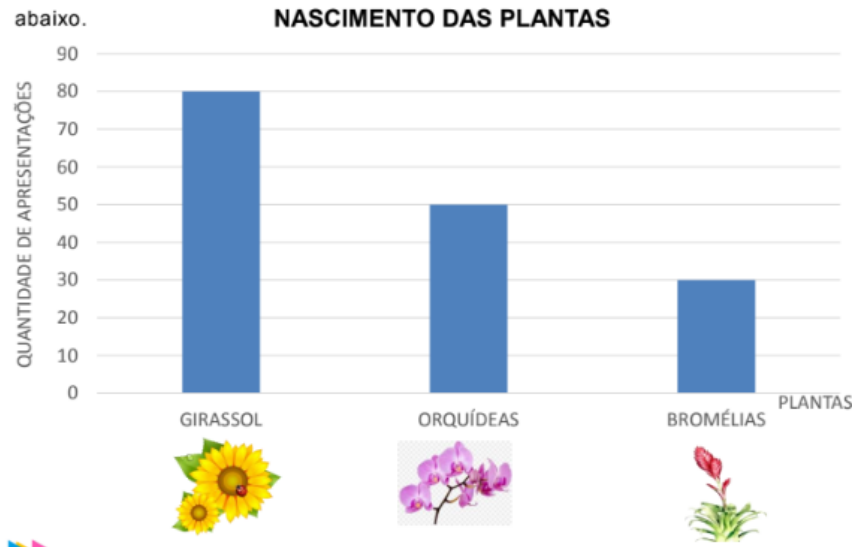




2ª ETAPA
ATIVIDADES DE MATEMÁTICA

Os funcionários do Jardim Botânico decidiram montar um gráfico com a quantidade de nascimentos de algumas plantas durante o ano. Veja o gráfico abaixo.



1) Observando o gráfico, marque um **x** nas respostas corretas.

a) Qual é a espécie de planta que nasceu em **menor** quantidade?

() Girassol () Orquídea () Bromélia

b) Qual a espécie de planta que nasceu em **maior** quantidade?

() Girassol () Orquídea () Bromélia

c) Quantas orquídeas nasceram a mais que os girassóis?

() 20 () 30 () 40

2) Observe os exemplos e continue a escrever os números.

	C	D	U	Por extenso
2 centenas + 3 dezenas e 4 unidades.	2	3	4	Duzentos e trinta e quatro reais.
9 dezenas + 7 unidades.				
1 centena + 9 dezenas e 9 unidades.				

CONFIO EM VOCÊ!

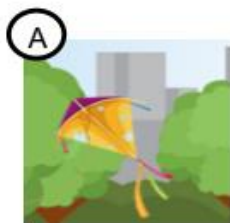


2ª ETAPA
ATIVIDADE DE ARTE

Observando as imagens



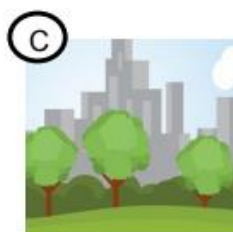
1) Associe as imagens, indicando o número da criança de acordo com a sua posição para saber que cena cada uma delas pode observar. Escreva o número das crianças abaixo da cena corretamente.



Vista da criança - número _____



Vista da criança - número _____



Vista da criança - número _____



Vista da criança - número _____