



1ª ETAPA
ATIVIDADES DE MATEMÁTICA

ORDEM DAS CENTENAS.


→ Livro, páginas: 140 até 143.

CENTENAS EXATAS

→ Livro, páginas 144 e 145.

Caderno

1 centena é
igual a 100
unidades



1) Leia a decomposição dos números e pinte a resposta certa.

a) 2 centenas, 4 dezenas e 3 unidades.

321

243

b) 3 centenas, 7 dezenas e 8 unidades.

378

78

c) 4 centenas, 6 dezenas e 9 unidades.

659






469

d) 7 centenas, 5 dezenas e 1 unidade.

751

771

2) Escreva o número representado pelo material dourado.





1ª ETAPA
ATIVIDADE DE ARTE

Jogo da memória dos seres vivos.

1º Colorir as imagens.

2º Recortar a imagem.

3º Divirta-se!!

