







Querida turminha do 2º ano, estou com muita saudade da nossa rotina! Mas, no momento precisamos desse isolamento social, espero que você e sua família estejam se prevenindo e aproveitando esse momento para descansar e brincar muito!

Separei algumas atividades para vocês lembrarem um pouquinho do que estudamos em sala de aula!

1ª ETAPA
ATIVIDADES DE MATEMÁTICA

1) Na matemática podemos comparar os números com alguns sinais. São eles:

 menor que <	 maior que >	 igual =	 diferente ≠
---	---	--	---

a) Observe os numerais a seguir e compare utilizando os sinais de = ou ≠.

17 ___ 71 93 ___ 39 12 ___ 1 dúzia 34 ___ 34

48 ___ 54 12 ___ 32 45 ___ 45 56 ___ 56

b) Compare os numerais a seguir com os sinais **< menor que** e **> maior que**.

89 ___ 18 23 ___ 13 32 ___ 64 34 ___ 54

13 ___ 41 27 ___ 9 45 ___ 45 67 ___ 13

2) Efetue as operações a seguir.

a) $74 - 32 =$

b) $58 - 25 =$

c) $36 + 23 =$

d) $72 + 25 =$

D	U

D	U

D	U

D	U



ESCOLA FRANCISCANA ESPAÇO VERDE – Belford Roxo, ____/____/____

PROFESSORA: Raiane

TURMA: 2º ANO

Nº ____

ALUNO (A): _____



1ª ETAPA

ATIVIDADES DE CIÊNCIAS

1) Já sabemos que o Sistema Solar é formado por oito planetas. Escreva-os em ordem alfabética.

Netuno – Urano – Júpiter – Terra – Vênus – Marte – Mercúrio – Saturno

1- _____

2- _____

3- _____

4- _____

5- _____

6- _____

7- _____

8- _____

2) Leia, pinte e recorte os planetas de acordo com a legenda a seguir, depois monte o Sistema Solar no seu caderno.

Urano e Netuno de **azul**.

Terra de **verde e azul**.

Saturno, Júpiter e Vênus de **laranja e amarelo**.

Mercúrio de **marrom**.

Marte de **vermelho**.

