



1ª ETAPA
ATIVIDADES DE MATEMÁTICA


Material dourado (dezena e unidade).

→ Livro, páginas: 138 e 139.


Caderno

MATERIAL DOURADO

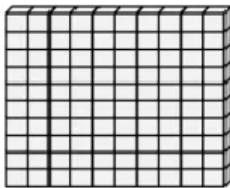
Através do material dourado podemos organizar unidades, dezenas e centenas de um numeral. Ele é composto por diferentes peças e cada uma representa um valor. Veja:



CUBINHO
1 unidade

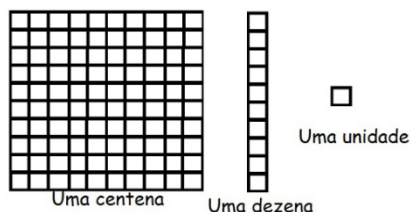


BARRA
10 cubinhos =
10 unidades ou
1 dezena



PLACA
10 barras =
100 cubinhos ou
1 centena

1) Com o material dourado nós podemos representar: unidade, dezena ou centena. Veja:



Os números podem ser compostos por unidade, dezena e centena. Escreva os numerais a seguir por extenso e decomponha, dizendo quantas unidades, dezenas e centenas tem o número.

Exemplo:

| | | |
|---|---|---|
| C | D | U |
| 1 | 2 | 3 |

Cento e vinte e três.
Uma centena, duas dezenas e 3

| | | |
|---|---|---|
| C | D | U |
| 1 | 5 | 7 |

| | | |
|---|---|---|
| C | D | U |
| 1 | 4 | 6 |



ESCOLA FRANCISCANA ESPAÇO VERDE – Belford Roxo, 13/04/2020

PROFESSORA: _____ TURMA: 2º ANO

ALUNO (A): _____



1ª ETAPA
ATIVIDADES DE CIÊNCIAS

No ambiente podemos encontrar seres vivos e elementos não vivos que compõem uma paisagem.

Os **seres vivos** são aqueles que nascem, crescem, podem se reproduzir, envelhecem e morrem.

Os **elementos não** vivos muitas vezes são essências para o ser vivo, mas não nascem, não crescem, não podem se reproduzir, não envelhecem e não morrem.



1) Numere o processo de desenvolvimento dos seres vivos.

envelhecem reproduzem-se nascem
 crescem morrem

2) Separe os nomes a seguir em seres vivos ou elementos não vivos.

gato – brinquedos – sapo – ouro - pedra – lápis – plantas – ser humano.

| Seres vivos | Elementos não vivos |
|-------------|---------------------|
| | |
| | |
| | |
| | |

3) Pesquise e cole um ser vivo e um elemento não vivo.


| | |
|--|--|
| | |
|--|--|



1ª ETAPA
ATIVIDADES DE PORTUGUÊS

PALAVRAS COM B E P

1) Escreva o nome dos brinquedos no quadro abaixo.



| Iniciam-se com P | Iniciam-se com B |
|-------------------------|-------------------------|
| | |
| | |
| | |

2) Complete com **p** ou **b**.

___ente

___i___oca

___acia

___anela

___aú

lãm ___ada

___irulito

___ernam ___uco

___atata

___orta

3) Pinte as imagens que comecem com a letra **b**.

