




ALUNO (A): _____

2ª ETAPA
ATIVIDADES DE CIÊNCIAS


• CLASSIFICAÇÃO DOS ANIMAIS

1) Os animais que vivem na água são chamados de animais aquáticos. Escolha um animal classificado como aquático e desenhe.

2) Animal mamífero é aquele que mama. Pinte com muito capricho o animal mamífero abaixo.



3) Os animais que nascem do ovo são chamados de ovíparos. Circule na figura abaixo o animal que põe ovo.



4) Recorte e cole figuras de animais domésticos.



ALUNO (A): _____

Vídeo: Adição - 1º ano

Link:

<https://www.youtube.com/watch?v=CuW2GGH9xdQ&t=23s>

2ª ETAPA
ATIVIDADES DE MATEMÁTICA




1 dezena = 10 unidades
meia dezena = 5 unidades

1) Em cada mão temo 5 dedos. Responda:

a) Juntando as duas mãos temos _____ dedos.




2) Risque os elementos de cada conjunto para que todos fiquem com meia dezena. Veja a tia já começou.



3) Vamos resolver os probleminhas com muita atenção.

a) Quantas flores Mariana regou no jardim? _____

- Pinte uma dezena de rosas.
- Uma dezena corresponde a: _____



b) Quantas flores Juliana colheu no jardim? _____

- Pinte meia dezena de flores que Juliana colheu.
- Meia dezena corresponde a: _____

